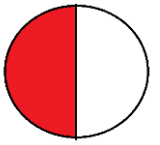
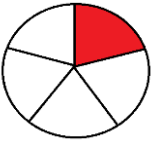
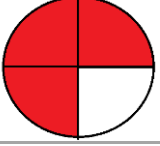
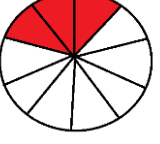



ΣΤ' ΤΑΞΗ

40. Συγκρίνω πο(σωστά) % (Εκτιμώ το ποσοστό)


Όνομα:

1. Γράψτε με κλάσμα και με ποσοστό το μέρος που εκφράζει το κάθε σχήμα.

ΣΧΗΜΑ	ΚΛΑΣΜΑ	ΠΟΣΟΣΤΟ
		
		
		
		
		

2. Στο διπλανό μιλιμετρέ χαρτί 10x10 να χρωματίσετε με:

- πράσινο το 50%
- κόκκινο το 25%
- κίτρινο το 13%
- μπλε το 5%



3. Να απαντήσεις τις παρακάτω ερωτήσεις.

- Το 50% ενός αριθμού είναι το 6. Ποιος είναι αυτός ο αριθμός;
.....
- Το 80% των ασθενών πήρε αντιβίωση. Αν οι ασθενείς ήταν 200, πόσοι πήραν αντιβίωση;
.....
- Το 75% του σώματός μας αποτελείται από νερό. Αν ένας άνθρωπος είναι 60 κιλά, πόσα λίτρα είναι το νερό στο σώμα του;
.....
- Το 100% των γονιών, συμφώνησε να πληρώσει για την εκδρομή. Αν οι γονείς που ερωτήθηκαν ήταν 48, πόσοι συμφώνησαν;
.....

4. Να τοποθετήσετε τους παρακάτω αριθμούς σε αύξουσα σειρά, αφού τους μετατρέψετε σε ποσοστά.

0,15

$\frac{3}{4}$

0,8

1

$\frac{1}{10}$

$2\frac{4}{5}$

.....